

ЗАДАНИЯ ПЕРВОГО (ОТБОРОЧНОГО) ТУРА
открытой многопрофильной Олимпиады Кубанского государственного
университета для школьников по профилю «История»
10–11 класс

Время выполнения заданий – 120 минут.
Максимальное количество баллов – 100.

Задание 1. Прочитайте отрывок из стихотворения Н. П. Кончаловской.
В каком году произошли события, о которых рассказывается в
приведенном отрывке?

Напишите пропущенное имя в тексте.

Напишите имя полководца, возглавлявшего поход на Русь, о событиях
которого говорится в тексте. (3 балла)

Пять дней оборонял народ
Свой край, как говорит сказанье
И пять ночей небесный свод
Пылал над стонущей Рязанью.
А на заре шестого дня
В леса, в приют шатровых елей,
Врага жестокого кляня,
Бежали те, что уцелели.
И к ним, как воин и как брат,
Горя упорной жаждой мщенья,
Пришёл рязанец (.....)
И стал готовить ополчение.

Ответ:

<i>год</i>	
<i>имя. пропущенное в тексте</i>	
<i>имя полководца</i>	

За каждый правильный элемент ответа – 1 балл. Всего 3 балла.

Задание 2. По какому принципу образованы ряды? Дайте краткий
конкретный ответ. Найдите лишний элемент в каждом ряду. (8 баллов)

1. Кондратий Рылеев, Николай Карамзин, Павел Пестель, Петр Каховский, Михаил Бестужев-Рюмин, Сергей Муравьев-Апостол.
2. Захарий Чепега, Степан Разин, Антон Головатый, Федор Бурсак, Григорий Рашпиль, Яков Кухаренко.
3. Стефан Вонифатьев, Никон, протопоп Аввакум, Иван Неронов, Афанасий Ордин-Нащокин, Федор Ртищев
4. Василий Перов, Иван Шишкин, Илья Репин, Василий Суриков, Карл Брюллов, Иван Крамской

Ответ:

<i>ряд</i>	<i>принцип образования</i>	<i>лишний элемент</i>
1		
2		
3		
4		

За каждый правильный элемент ответа – 1 балл. Всего 8 баллов.

Задание 3. Расположите в хронологической последовательности события.

Ответы запишите в таблицу. (10 баллов)

I.

- а) Разгром Хазарского каганата князем Святославом
- б) Избрание Илариона митрополитом Киевским и всея Руси
- в) осада печенегами Киева и его оборона княгиней Ольгой
- г) Крещение княгини Ольги
- д) разгром печенегов под Киевом князем Ярославом Мудрым

Ответ:

1	2	3	4	5

II.

- а) восстание на броненосце «Князь Потемкин Таврический»
- б) Декабрьское вооруженное восстание
- в) роспуск II Думы
- г) Манифест «Об усовершенствовании государственного порядка»
- д) Кровавое воскресенье

Ответ:

1	2	3	4	5

За каждый правильный элемент ответа – 1 балл. Всего 10 баллов.

Задание 4. Найдите современников. Ответ занесите в таблицу (6 баллов)

- | | |
|----------------------------|----------------------------|
| 1. Владимир Мономах | А. Уильям Шекспир |
| 2. Всеволод Большое Гнездо | Б. Василий Болгаробойца |
| 3. Даниил Московский | В. папа Урбан II |
| 4. Василий III | Г. Фридрих Барбаросса |
| 5. Кузьма Минин | Д. Хильдерик III |
| 6. Алексей Михайлович | Е. Людовик XIV Французский |
| | Ж. Данте Аллигьери |
| | З. Микеланджело Буонаротти |

И. Карл Великий

Ответы:

1	2	3	4	5	6

За каждый правильный элемент ответа – 1 балл. Всего 6 баллов.

Задание 5. Соотнесите понятие из отечественной истории с событием всемирной истории, которое происходило примерно в один период с появлением данного понятия. Ответ занесите в таблицу (5 баллов)

- | | |
|--------------------------------|--|
| 1. временнообязанные крестьяне | А. Тридцатилетняя война |
| 2. коллегия | Б. Война за испанское наследство |
| 3. опричнина | В. Варфоломеевская ночь |
| 4. «полки нового строя» | Г. Правление президента А. Линкольна в США |
| 5. НЭП | Д. IV Крестовый поход |
| | Е. Генуэзская конференция |
| | Ж. Потсдамская конференция |

Ответы:

1	2	3	4	5

За каждый правильный элемент ответа – 1 балл. Всего 5 балла.

Задание 6. Установите соответствие между событиями и участниками событий. Ответ занесите в таблицу (5 баллов)

- | | |
|------------------------|--|
| 1. А.В. Луначарский | А. финансовая реформа |
| 2. П.А. Румянцев | Б. работа научной станции «Северный полюс – 1» |
| 3. И.Д. Папанин | В. Смоленская война |
| 4. Е.Ф. Канкрин | Г. деятельность Народного комиссариата Просвещения |
| 5. А.С. Новиков-Прибой | Д. осада крепости Кольберг |
| | Е. Цусимское сражение |
| | Ж. Крымские походы |

Ответы:

1	2	3	4	5

За каждый правильный элемент ответа – 1 балл. Всего 5 баллов.

Задание 7. Настоящий историк должен хорошо разбираться в исторической терминологии. Напишите определения, представленные в задании (8 баллов)

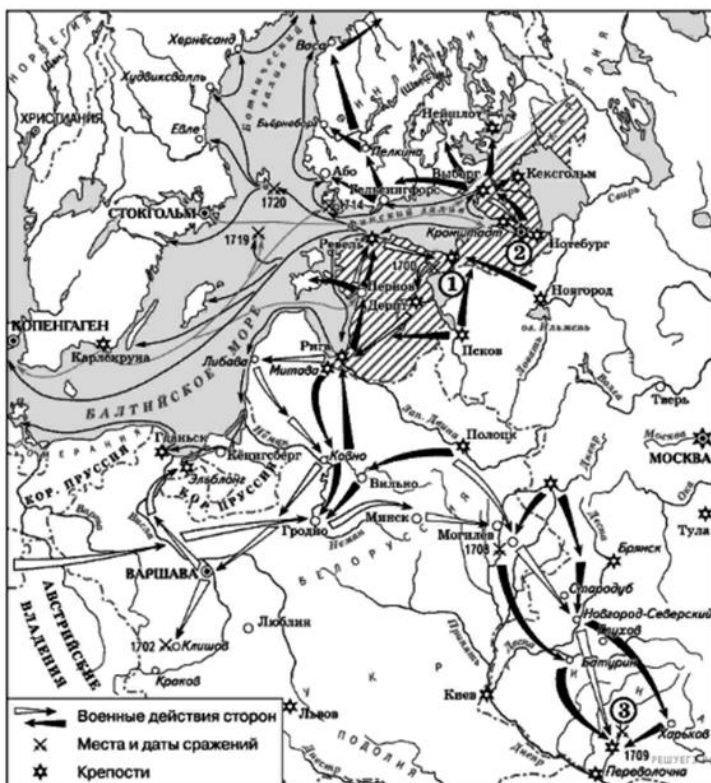
1. Правая рука на старославянском.
2. Жесткий цензурный устав 1826-1828 гг.
3. Прозвище Екатерины II – «Северная...».
4. Название одного из кораблей, на котором Крузенштерн и Лисянский отправились в первое русское кругосветное путешествие.
5. Обожженный кирпич для строительства храмов в домонгольской Руси.
6. Первая рукописная газета
7. Одинокий крестьянин, не имеющий земельного надела в Русском государстве XV — начала XVIII века.
8. Рабочий, регулярно перевыполняющий рабочие нормы и производственные планы в СССР

Ответы:

1	
2	
3	
4	
5	
6	
7	
8	

За каждый правильный элемент ответа – 1 балл. Всего 8 баллов.

Задание 8. Работа с картой. (10 баллов)



- 8.1. Напишите название войны, события которой изображены на карте.
- 8.2. Напишите название города, возле которого произошло сражение, указанное под цифрой 3.
- 8.3. Укажите название центральных органов отраслевого управления, учрежденных в России в годы войны, события которой указаны на карте.
- 8.4. Укажите название полуострова, возле которого произошло сражение, изображенное на картине.
- 8.5. Укажите год, когда произошло сражение возле изображенного на картине полуострова:



Ответы:

1	
2	
3	

4	
5	

За каждый правильный элемент ответа – 2 балла. Всего 10 баллов.

Задание 9 Прочитайте внимательно текст и заполните пропуски. Ответ запишите в таблицу. Обратите внимание, что ответ должен быть записан именно в том падеже, в котором это слово стоит в тексте. (13баллов)

«В 1768 году Османская империя объявила войну России и ...(1)... (прилагательное) татары совершили опустошительный набег на южнорусские поселения. Правящие круги России приняли смелое решение – вести войну на Дунае, в Молдавии и ...(2)... (название княжества), принадлежавших тогда султану.

В 1769 г. русские войска заняли значительную часть этих княжеств, в том числе города Яссы, ...(3)... (название города). В следующем году блестящие победы оказывает армия ...(4)... (имя полководца). В серии сражений – у Рябой Могилы, при Ларге и ...(5)... (название сражения) он наголову разбил турецко-крымские армии, намного превосходившие его войско по численности.

Одновременно 24-26 июня 1770 г. русский флот, под командованием А.Г... (6)... (имя флотоводца) и Г.А. ...(7)... (имя флотоводца), соверши тяжелейший переход из Кронштадта в ...(8)... (название моря) море, полностью уничтожил турецкий флот в ...(9)... (название бухты) бухте, у Хиосского пролива.

В 1771 г. удалось занять ...(10)... (название полуострова), блокировать пролив ...(11)... (название пролива). Турция оказалась на краю катастрофы, но ...(12)... (название страны), непримиримый противник России толкала султана к продолжению войны. В 1773 году русские войска продвинулись на юг, за Балканы. Мир заключили 10 июля ...(13)... (год) года в деревне Кючук-Кайнарджи, в Болгарии.»



Ответ:

1	
2	
3	
4	
5	
6	
7	
8	
9	
10	
11	
12	

За каждый правильный элемент ответа – 1 балл. Всего 13 баллов.

Задание 10. Определите по изображениям героев Великой Отечественной войны. Соотнесите изображения с описаниями подвигов, которые они совершили. (32 балла)

1		2	
3		4	
5		6	

7		8	
---	---	---	---

Описание подвига героев:

А	<p>Один из организаторов подпольной антифашистской организации, действовавшей в районе современной Луганской области и насчитывавшей более ста человек. ... участвовал во многих боевых операциях: распространении листовок, разгроме вражеских автомашин, сборе оружия, поджоге скирд хлеба, предназначенного для отправки в Германию. ... осуществлял связь с группами в окрестностях Краснодона, от имени штаба давал им задания. 12 января его арестовали. Героически держался ... на допросах. Раскаленным железом, плетью, самыми изощренными пытками враги не смогли поколебать воли и стойкости. Во время одной из пыток, преодолевая страшную боль, Олег выкрикнул: "Все равно вы погибнете, фашистские гады! Наши уже близко!" От пережитого в тюремных застенках у шестнадцатилетнего комиссара поседели волосы. Но он остался гордым и непокоренным, не предал своих товарищей и то святое дело, за которое боролся.</p>
Б	<p>Военный летчик, командир 2-й эскадрильи 207-го дальнебомбардировочного авиационного полка, капитан. Работал слесарем, затем в 1932 году был призван на службу в Красную Армию. Попал в авиаполк, где стал летчиком. Участвовал в трех войнах. За год до Великой Отечественной он получил звание капитана</p>
В	<p>Великую Отечественную войну он встретил в летном училище, но вскоре попал на фронт. Во время боевого вылета его самолет был подбит, а сам ... смог катапультироваться. Восемнадцать суток, тяжело раненный в обе ноги, он выбирался из окружения. Однако он все-таки сумел преодолеть линию фронта и попал в больницу. Но уже началась гангрена, и врачи ампутировали ему обе ноги. Для многих это означало бы конец службы, но летчик не сдался и вернулся в авиацию. До конца войны он летал с протезами</p>

Г	Начал воевать уже в советско-финляндскую войну. На биплане сбил 4 вражеских самолета. Затем служил в авиационном училище. В августе 1941 года одним из первых советских летчиков совершил таран, сбив в ночном воздушном бою немецкий бомбардировщик. Причем раненый летчик смог выбраться из кабины и спуститься на парашюте в тыл к своим
Д	В армии служил с 1933 года. Когда началась война, пошел в разведчики. Работал в тылу врага, командовал партизанским отрядом, который наводил ужас на солдат противника. Его бригада уничтожила несколько тысяч фашистских солдат и офицеров, пустила под откос сотни железнодорожных составов и подорвала сотни автомашин. Фашисты устроили настоящую охоту. В 1943 году его партизанский отряд попал в окружение в Псковской области. Пробиваясь к своим, храбрый командир погиб от вражеской пули
Е	Должен был вести захватчиков через лес и топи. И, как и легендарный герой, решил ценой своей жизни остановить врага. Он отправил вперед своего внука, чтобы тот предупредил отряд партизан, остановившийся неподалеку. Фашисты угодили в засаду. Завязался бой. ... погиб от руки немецкого офицера. Но свое дело сделал. Ему шел 84-й год
Ж	Стрелок-автоматчик 2-го отдельного батальона 91-й отдельной Сибирской добровольческой бригады имени Сталина. В феврале 1943 года его батальон атаковал опорный пункт фашистов, но угодил в ловушку, попав под плотный огонь, отрезавший путь к окопам. Стреляли из трех дзотов. Два вскоре замолчали, однако третий продолжал расстреливать красноармейцев, залегших в снегу. Видя, что единственный шанс выйти из-под огня, это подавить огонь соперника, ... с однополчанином дополз до дзота и бросил в его сторону два гранаты. Пулемет замолчал. Красноармейцы пошли в атаку, но смертельное оружие застрекотало опять. Напарника ... убило, и он остался перед дзотом один. На принятие решения у него не было и нескольких секунд. Не желая подводить боевых товарищей, ... своим телом закрыл амбразуру дзота. Атака увенчалась успехом.
З	Когда грянула Отечественная война, ... было всего 14 лет. Вместе со взрослыми он ушел в Старокарантинские каменоломни. ... был связным и разведчиком в этой подземной крепости, около двух месяцев отчаянно сопротивлявшейся гитлеровским захватчикам. Поскольку ... был самым маленьким, то ему удавалось выбираться на поверхность по очень узким лазам, не замеченным врагами. За полтора месяца командир группы юных разведчиков пионер ... ходил на поверхность семь раз. Он выходил из каменоломен и пробирался назад практически на глазах у немецких часовых. В один из походов

	<p>он узнал, что немцы собираются затопить каменоломни, и успел предупредить командование отряда. Благодаря вовремя возведенным перекрытиям отряд остался цел и планы немцев были сорваны. В январе 1942 г., после освобождения Керчи частями Красной Армии саперы принялись разминировать территорию вокруг каменоломен, ...вызвался помогать им. 2 января юный герой погиб, подорвавшись на mine.</p>
--	---

Ответы:

<i>Портрет</i>	<i>Текст (буква)</i>	<i>Фамилия, имя</i>
1		
2		
3		
4		
5		
6		
7		
8		

За каждый правильный элемент ответа – 2 балла. Всего 32 балла.

Желаем удачи!