

ЗАДАНИЯ ПЕРВОГО (ОТБОРОЧНОГО) ТУРА
открытой многопрофильной Олимпиады Кубанского государственного
университета для школьников по профилю «История»
10-11 класс

Время выполнения заданий – 180 минут.

Максимальное количество баллов – 100.

Задание 1. Прочитайте отрывки из стихотворений и определите о ком идет речь в каждом отрывке. Соедините отрывки с именами приведенных в задании исторических деятелей. Некоторые приведенные имена лишние. (5 баллов)

1.

Несокрушима воинская сила
Того, кто предан родине своей.
Она брала твердыни Измаила,
Рубила в клочья прусских усачей.
В Италии летела с гор лавиной,
Пред Фридрихом вставала в полный рост,
Полки среди туч вела тропой орлиной
В туман и снег на узкий Чертов мост.

2

Немецкий принц, доставленный в Россию,
Где груб народ, напитки и закуски,
В солдатики играл, читал Расина,
И не учился говорить по-русски.
Всё делавший без толку и некстати,
Казался слабоумным он и хилым.
В своём дворце убогом в Петерштадте,
В алькове под тяжёлым балдахином,
...
Мечтал ли он, голштинец худосочный,
Об облике ужасном Пугачёва?

3

Под камнем сим лежит прегнусный корсиканец,
Враг человечества, враг бога, самозванец,
Который кровию полсвета обагрил,
Все состояния расстроил, разорил,
А, наконец, и сам для смертных всех в отраду
Открыл себе он путь через Россию к аду.

4

Еще никто
Не управлял планетой,
И никому
Не пелась песнь моя.
Лишь только он,
С рукой своей воздетой,
Сказал, что мир – Единая семья.

5

В штабах штаны не протирал
За спинами отца и деда.
В сраженьях «Белый генерал»
Стяжал и славу и победы.

Не пятась от чужих штыков
И от судьбы своей превратной,
С простым солдатом был готов
Делить всю тяжесть службы ратной.

И то не праздные слова,
Коль, обходя наветов рифы,
Хранит народная молва
О нём восторженные мифы,

И верит, что своих коней
Он правит там, в небесной сини,
В живом строю богатырей
Святого воинства России

Исторические деятели:

- А. Александр I
- Б. Петр III
- В. Суворов А.В.
- Г. Кутузов М.И.
- Д. Наполеон
- Е. Иван Калита
- Ж. Ленин В.И.
- З. Троцкий Л.Д.
- И. Скобелев М.Д.

Ответ:

<i>Отрывок 1</i>	В
<i>Отрывок 2</i>	Б
<i>Отрывок 3</i>	Д
<i>Отрывок 4</i>	Ж

За каждый правильный элемент ответа – 1 балл. Всего 5 баллов.

Задание 2. Расположите в хронологической последовательности (по порядку от наиболее раннего к самому позднему) события. Ответ занесите в таблицу. (6 баллов)

- а) поход Василия II против Казанского ханства
- б) смерть князя Андрея Боголюбского
- в) начало княжения Мстислава Удалого в Новгороде
- г) издание Иваном Федоровым печатной книги «Апостол»
- д) создание Священной Римской империи
- е) Соляной бунт в Москве

Ответ:

1	2	3	4	5	6
Д	Б	В	А	Г	Е

За каждый правильный элемент ответа – 1 балл. Всего 6 баллов.

Задание 3. Найдите современников. Ответ занесите в таблицу. (6 баллов)

1. царь Михаил Федорович	А. Карл I Стюарт
2. Владимир Мономах	Б. Людовик IX Святой Французский
3. Иосиф Волоцкий	В. папа Урбан II
4. Петр Первый	Г. Фридрих Барбаросса
5. Александр Невский	Д. Хильдерик III
6. патриарх Никон	Е. Людовик XIV Король-Солнце
	Ж. Иоганн Себастьян Бах
	З. Леонардо да Винчи
	И. Карл Великий

Ответы:

1	2	3	4	5	6
А	В	З	Ж	Б	Е

За каждый правильный элемент ответа – 1 балл. Всего 6 баллов.

Задание 4. Установите соответствие между событиями и участниками событий. Ответ занесите в таблицу. (7баллов)

1. Федор Конь	А. Опричнина
2. А.В. Суворов	Б. роспись Ферапонтова монастыря
3. А.Л. Ордин-Нащокин	В. Андрусовское перемирие
4. Дионисий	

5. Симон Ушаков	Г. создание иконы «Богоматерь Владимирская (Древо Московского государства)» Д. Семилетняя война Е. строительство крепостной стены Смоленска Ж. Присоединение Коломны к Москве З. Победа русского флота у мыса Гангут И. Строительство защитных укреплений в Севастополе
6. Даниил Александрович	
7. Э.И. Тотлебен	

Ответы:

1	2	3	4	5	6	7
Е	Д	В	Б	Г	Ж	И

За каждый правильный элемент ответа – 1 балл. Всего 7 баллов.

Задание 5. Настоящий историк должен хорошо разбираться в исторической терминологии. Напишите в приведенной ниже таблице определения, представленные в задании. Ответы необходимо привести в именительном падеже, без лишних пробелов и других знаков, в противном случае ответ не будет зачтен системой как верный. (8 баллов)

1. Повинность по перевозке грузов в пользу князя.
2. Название периода, когда согласно летописям «престаше татарове воевати землю Русскую».
3. Кружевное плетение из проволоки, ювелирная техника
4. Специальный налог в XVI в., собиравшийся для обеспечения стрельцов.
5. Обожженный кирпич для строительства храмов в домонгольской Руси.
6. Дань, которую платили русские земли во время ордынского владычества
7. В XVI в. на Руси краткие словари, в которых содержались элементарные сведения по грамматике, арифметике, истории и географии
8. Боярин – глава Дворца - центрального ведомства в Московском великом княжестве и Русском государстве в XV–XVI вв.

Ответы:

1	Повоз
2	Великая тишина (великая замятня)
3	скань
4	Пищальные деньги (стрелецкие деньги)
5	плинфа
6	Ордынский выход (выход)

7	Азбуковники (Азбуковник)
8	дворецкий

За каждый правильный элемент ответа – 1 балл. Всего 8 баллов.

Задание 6. Работа с картой. (18 баллов)

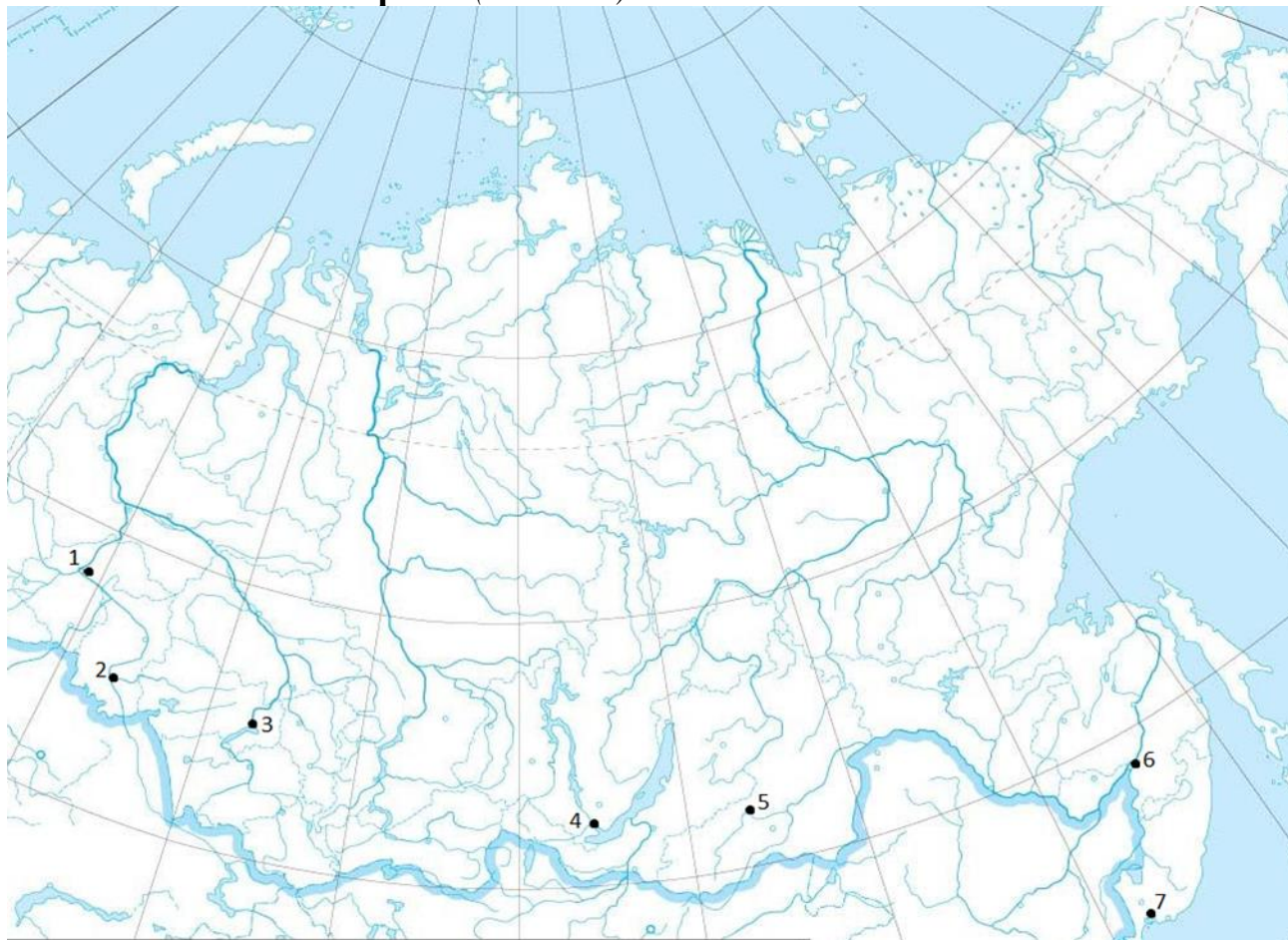


Рисунок 2.



Рисунок 3.



6.1. Укажите современные названия городов, указанных на карте. Ответы занесите в таблицу. Писать ответы необходимо в именительном падеже, с большой буквы. Никаких лишних пробелов и других знаков не должно быть, в противном случае ответ не будет зачтен системой как верный.

6.2. Перед вами годы основания городов, указанных на карте. Сопоставьте название города и год его основания. Ответ занесите в таблицу.

1587

1653

1661
1716
1858

1860
1893

- 6.3 На рисунке 2 представлен фрагмент «Чертежной книги Сибири», на которой изображен один из городов, указанных на карте. Напишите название города, а также имя и фамилию (в именительном падеже, с большой буквы) автора этого источника.
- 6.4 На рисунке 3 изображен генерал-губернатор Восточной Сибири, который предложил название города под №7. Напишите имя и фамилию этого исторического деятеля (вместе с прозвищем, через дефис), видного российского дипломата.
- 6.5 Напишите название договора (в именительном падеже, с большой буквы, без слова «договор», просто название), заключенного в тот же год, когда был основан город под № 7. По данному договору за Россией был закреплен Уссурийский край и устанавливал границы между Россией и империей Цин.

Ответы:

Номер города на карте	Современное название города	Год основания
1	Тобольск	1587
2	Омск	1716
3	Новосибирск	1893
4	Иркутск	1661
5	Чита	1653
6	Хабаровск	1858
7	Владивосток	1860

6.3. Название города	Тобольск
6.3. Имя и фамилия автора источника	Семен Ремезов
6.4. Имя и фамилия исторического деятеля	Николай Муравьев-Амурский
6.5. Название договора	Пекинский (Пекинский трактат)

За каждый правильный элемент ответа – 1 балл. Всего 18 баллов.


Задание 7. Перед вами изображения памятников архитектуры. Напишите их названия и укажите фамилию архитектора. Обращаем внимание, что указать необходимо только одну фамилию – при указании еще и имени ответ не будет засчитан системой как верный. (10 баллов)



1.



2.



3. zaburdaev.ru



4.



5.

Ответы:

Номер изображения	Название архитектурного сооружения	Фамилия архитектора
1	Смольный собор (Воскресенский собор Смольного монастыря; Воскресенский Смольный собор; Смольный собор Воскресения Христова). Также в связи с технической ошибкой засчитывались как верные ответы: Александринский театр (здание Александринского театра)	Растрелли Также в связи с технической ошибкой засчитывался как верный ответ: Росси
2	Большой мост (Готический мост; Большой мост через овраг; Большой Готический мост)	Баженов
3	Никольский морской собор (Никола-Богоявленский собор; Николо-Богоявленский морской собор; Никольский собор)	Чевакинский
4	Александринский театр (здание Александринского театра)	Росси
5	Таврический дворец	Старов

За каждый правильный элемент ответа – 1 балл. Всего 10 баллов.

Задание 8. Перед вами фрагменты из работы советского и российского историка о жизни и деятельности одного из правителей российского государства. Прочитайте отрывки и ответьте на вопросы. Ответы занесите в таблицу. Пожалуйста, внимательно прочитайте вопрос и напишите только тот ответ, который от Вас требуется в задании, в противном случае ответ системой засчитан не будет. (10 баллов)

Писатель и историк <...(1)...> утверждал некогда, что <...(2)...> мог бы заслужить славу одного из лучших правителей мира, если бы он родился на троне. В глазах <...(1)...> лишь законные самодержцы были носителями государственного порядка. <...(2)...> узурпировал власть, убив последнего члена царской династии (3), и потому само провидение обрекло его на гибель.

<...(2)...> родился незадолго до покорения Казани, в <...>. Его отец, Федор Иванович, был помещиком средней руки.

Тревожное <...(4)...> время мало благоприятствовало образованию <...(2)...>. Младшие современники считали его вовсе неграмотным.

Царь <...(5)...> умер <...>. Древнюю корону –<...(6)...> – надел на себя <...(2)...>, одержавший победу в борьбе за власть.

Вопросы к тексту:

1 – Укажите фамилию российского писателя и историка, пропущенного в тексте под цифрой 1. (1 балл)

2 – Укажите фамилию исторического деятеля, пропущенного в тексте под цифрой 2. (1 балл).

3 – Укажите имя члена царской династии, о котором говорится в тексте под цифрой 3. (1 балл)

4 – Укажите год взятия московским царем Казани. (1 балл)

5 – Напишите прозвище московского царя, в период царствования которого произошло присоединение Казанского ханства. (1 балл)

6 – Напишите пропущенное под цифрой 4 называемое автором время. (1 балл)

7 – Напишите имя царя, упоминаемого в тексте под цифрой 5. (1 балл)

8 – Напишите год смерти царя, упоминаемого в тексте под цифрой 5. (1 балл)

9 – Укажите название древней короны, упоминаемой автором в приведенном тексте под цифрой 6. (1 балл)

10 – Укажите название периода истории России, начало которому было положено в годы правления исторического деятеля, упоминающегося в тексте под цифрой 2. (1 балл)

Ответы:

1 – Карамзин, Н.М. Карамзин, Николай Михайлович Карамзин, Н. Карамзин, Николай Карамзин. (1 балл)

2 – Годунов, Б. Годунов, Б.Ф. Годунов, Борис Годунов, Борис Федорович Годунов. (1 балл)

3 – Дмитрий, Дмитрий Иванович. (1 балл)

4 – 1552, 1552 г., 1552 год. (1 балл)

5 – Грозный, Иван Грозный, Иван IV Грозный, Иван 4 Грозный. (1 балл)

6 – Опричное, опричнина. (1 балл)

7 – Федор, Фёдор, Федор Иванович, Фёдор Иванович. (1 балл)

8 – 1598, 1598 г., 1598 год. (1 балл)

9 – шапка Мономаха. (1 балл)

10 – Смутное время, Смута. (1 балл)

За каждый правильный элемент ответа – 1 балл. Всего 10 баллов.

Задание 9. Перед вами список героев Великой Отечественной войны. Соотнесите портреты героев с описанием их деятельности и иллюстрациями, на которых изображены подвиги, которые они совершили и заполните таблицу. (24 балла)

Е.Д. Бершанская

Л.М. Павличенко

Ц.Л. Куников

П.М. Гаврилов

В.Н. Дубинин

Д.Ф. Лавриненко

И.А. Флёров

Я.Ф. Павлов

Портреты героев Великой Отечественной войны

1



2




3



4






Характеристика деятельности:

1. Снайпер, уничтоживший более 300 солдат и офицеров противника, Герой Советского Союза, награжденный двумя орденами В.И. Ленина.
2. Самый результативный советский танкист Великой Отечественной войны, кубанский казак, Герой Советского Союза, участник битвы за Москву.
3. Герой-пионер, участник одного из керченских партизанских отрядов, не раз ходивший в разведку и добывавший ценные для партизан сведения.

4. Командир бомбардировочного полка, который немцы за его эффективность прозвали «ночные ведьмы».
5. Участник обороны Брестской крепости, после Великой Отечественной войны жил в г. Краснодаре, где сейчас одна из улиц носит имя в его честь.
6. Командир десанта на «Малую землю» в Новороссийске, Герой Советского Союза.
7. Командир первой в РККА батареи реактивной артиллерии БМ-13, не позволил попасть ей в руки врага и погиб вместе с ней.
8. Командир группы бойцов, героически оборонявших 58 дней один из домов Сталинграда.

Иллюстрации





Ответы:

<i>ФИО героя Великой Отечественной войны</i>	<i>Характеристика деятельности</i>	<i>Иллюстрация, связанная с деятельностью героя</i>	<i>Портрет героя</i>
Е.Д. Бершанская	4	А	3
Л.М. Павличенко	1	В	8
Ц.Л. Куников	6	Б	6
П.М. Гаврилов	5	З	5
В.Н. Дубинин	3	Ж	4
Д.Ф. Лавриненко	2	Г	7
И.А. Флёров	7	Е	2

Я.Ф. Павлов	8	Д	1
-------------	---	---	---

За каждый правильный элемент ответа – 1 балл. Всего 24 балла.

Задание 10. Внимательно изучите таблицы и ответьте на вопросы. В ответе нужно указать «верно» или «неверно». (6 баллов)

Группы предприятий по числу рабочих	1867 г.			1913 г.		
	число предприятий	число рабочих	сумма продукции	число предприятий	число рабочих	сумма продукции
До 99 рабочих	73,6	9,4	14,5	8,8	0,4	0,3
От 100 до 499 рабочих	15,6	22,2	32,8	41,7	9,6	8,9
» 500 » 999 »	6,0	22,8	30,1	16,2	10,4	8,8
» 1 000 » 1 999 »	3,1	22,8	14,3	17,1	20,5	21,5
» 2 000 » 4 999 »	1,7	22,8	8,3	11,8	32,4	33,9
» 5 000 и более »	—	—	—	4,4	25,7	26,6
Итого по всем группам	100,0	100,0	100,0	100,0	100,0	100,0¹

Распределение крупнейших фабрик Европейской России на группы по числу рабочих за 1879—1894/95 гг.¹

Группы фабрик по числу рабочих	Число фабрик						Число рабочих					
	абсолютно			в % к итогу			абсолютно			в % к итогу		
	1879 г.	1890 г.	1894/95 г.	1879 г.	1890 г.	1894/95 г.	1879 г.	1890 г.	1894/95 г.	1879 г.	1890 г.	1894/95 г.
А. От 100 до 499 рабочих	979	1131	1136	79,6	79,7	77,4	219,436	252,763	252,776	44,2	42,1	38,5
Б. От 500 до 999 рабочих	164	182	215	13,4	12,8	14,7	113,936	120,936	143,453	22,9	20,2	21,9
В. От 1 тыс. и более	86	108	117	7,0	7,7	7,9	163,044	226,207	259,541	32,9	37,7	39,6
Итого	1229	1421	1468	100,0	100,0	100,0	496,416	599,206	655,670	100,0	100,0	100,0

Верны ли следующие утверждения:

1. в России в данный период наблюдался неуклонный рост числа крупных предприятий (крупным в данном задании считается предприятие от 1000 чел и выше) и работников на них.
2. в начале XX в. главным производителем продукции в России по-прежнему оставались некрупные предприятия.

3. по данным представленных таблиц можно говорить о снижении к 1913 г. степени монополизации промышленного производства России?

Ответы:

1	верно
2	неверно
3	неверно

За каждый правильный элемент ответа – 2 балла. Всего 6 баллов.