

ЗАДАНИЯ ПЕРВОГО (ОТБОРОЧНОГО) ТУРА
открытой многопрофильной Олимпиады Кубанского государственного
университета для школьников по профилю «История»
8-9 класс

Время выполнения заданий – 180 минут.

Максимальное количество баллов – 100.

Задание 1. Прочитайте отрывки из стихотворений и определите о ком идет речь в каждом отрывке. Соедините отрывки с именами приведенных в задании исторических деятелей. Некоторые приведенные имена лишние. (3 балла)

1.

Несокрушима воинская сила
Того, кто предан родине своей.
Она брала твердыни Измаила,
Рубила в клочья прусских усачей.
В Италии летела с гор лавиной,
Пред Фридрихом вставала в полный рост,
Полки среди туч вела тропой орлиной
В туман и снег на узкий Чертов мост.

2

Немецкий принц, доставленный в Россию,
Где груб народ, напитки и закуски,
В солдатики играл, читал Расина,
И не учился говорить по-русски.
Всё делавший без толку и некстати,
Казался слабоумным он и хилым.
В своём дворце убогом в Петерштадте,
В алькове под тяжёлым балдахином,
...
Мечтал ли он, голштинец худосочный,
Об облике ужасном Пугачёва?

3

Под камнем сим лежит прегнусный корсиканец,
Враг человечества, враг бога, самозванец,
Который кровию полсвета обагрил,
Все состояния расстроил, разорил,
А, наконец, и сам для смертных всех в отраду
Открыл себе он путь через Россию к аду.

Исторические деятели:

- А. Александр I
- Б. Петр III
- В. Суворов А.В.
- Г. Кутузов М.И.
- Д. Наполеон
- Е. Иван Калита

Отрывок 1	
Отрывок 2	
Отрывок 3	

За каждый правильный элемент ответа – 1 балл. Всего 3 балла.

Задание 2. Расположите в хронологической последовательности (по порядку от наиболее раннего к самому позднему) события. (5 баллов)

- а) поход Василия II против Казанского ханства
- б) смерть князя Андрея Боголюбского
- в) начало княжения Мстислава Удалого в Новгороде
- г) издание Иваном Федоровым печатной книги «Апостол»
- д) создание Священной Римской империи

1	2	3	4	5

За каждый правильный элемент ответа – 1 балл. Всего 5 баллов.

Задание 3. Найдите современников. Ответ занесите в таблицу. (6 баллов)

1. царь Михаил Федорович	А. Карл I Стюарт
2. Владимир Мономах	Б. Людовик IX Святой Французский
3. Иосиф Волоцкий	В. папа Урбан II
4. Петр Первый	Г. Фридрих Барбаросса
5. Александр Невский	Д. Хильдерик III
6. патриарх Никон	Е. Людовик XIV Король-Солнце
	Ж. Иоганн Себастьян Бах
	З. Леонардо да Винчи
	И. Карл Великий

1	2	3	4	5	6

За каждый правильный элемент ответа – 1 балл. Всего 6 баллов.

Задание 4. Установите соответствие между событиями и участниками событий. Ответ занесите в таблицу. (6 баллов)

1. Федор Конь 2. А.В. Суворов 3. А.Л. Ордин-Нащокин 4. Дионисий 5. Симон Ушаков 6. Даниил Александрович	А. Опричнина Б. роспись Ферапонтова монастыря В. Андрусовское перемирие Г. создание иконы «Богоматерь Владимирская (Древо Московского государства)» Д. Семилетняя война Е. строительство крепостной стены Смоленска Ж. Присоединение Коломны к Москве
--	---

1	2	3	4	5	6

За каждый правильный элемент ответа – 1 балл. Всего 6 баллов.

Задание 5. Настоящий историк должен хорошо разбираться в исторической терминологии. Напишите в приведенной ниже таблице определения, представленные в задании. Ответы необходимо привести в именительном падеже, без лишних пробелов и других знаков, в противном случае ответ не будет зачтен системой как верный. (8 баллов)

1. Повинность по перевозке грузов в пользу князя.
2. Название периода, когда согласно летописям «престаше татарове воевати землю Русскую».
3. Кружевное плетение из проволоки, ювелирная техника.
4. Специальный налог в XVI в., собиравшийся для обеспечения стрельцов.
5. Обожженный кирпич для строительства храмов в домонгольской Руси.
6. Дань, которую платили русские земли во время ордынского владычества.
7. В XVI в. на Руси краткие словари, в которых содержались элементарные сведения по грамматике, арифметике, истории и географии.
8. Боярин – глава Дворца – центрального ведомства в Московском великом княжестве и Русском государстве в XV–XVI вв.

1	
2	
3	
4	

5	
6	
7	
8	

За каждый правильный элемент ответа – 1 балл. Всего 8 баллов.

Задание 6. Работа с картой. (32 балла)

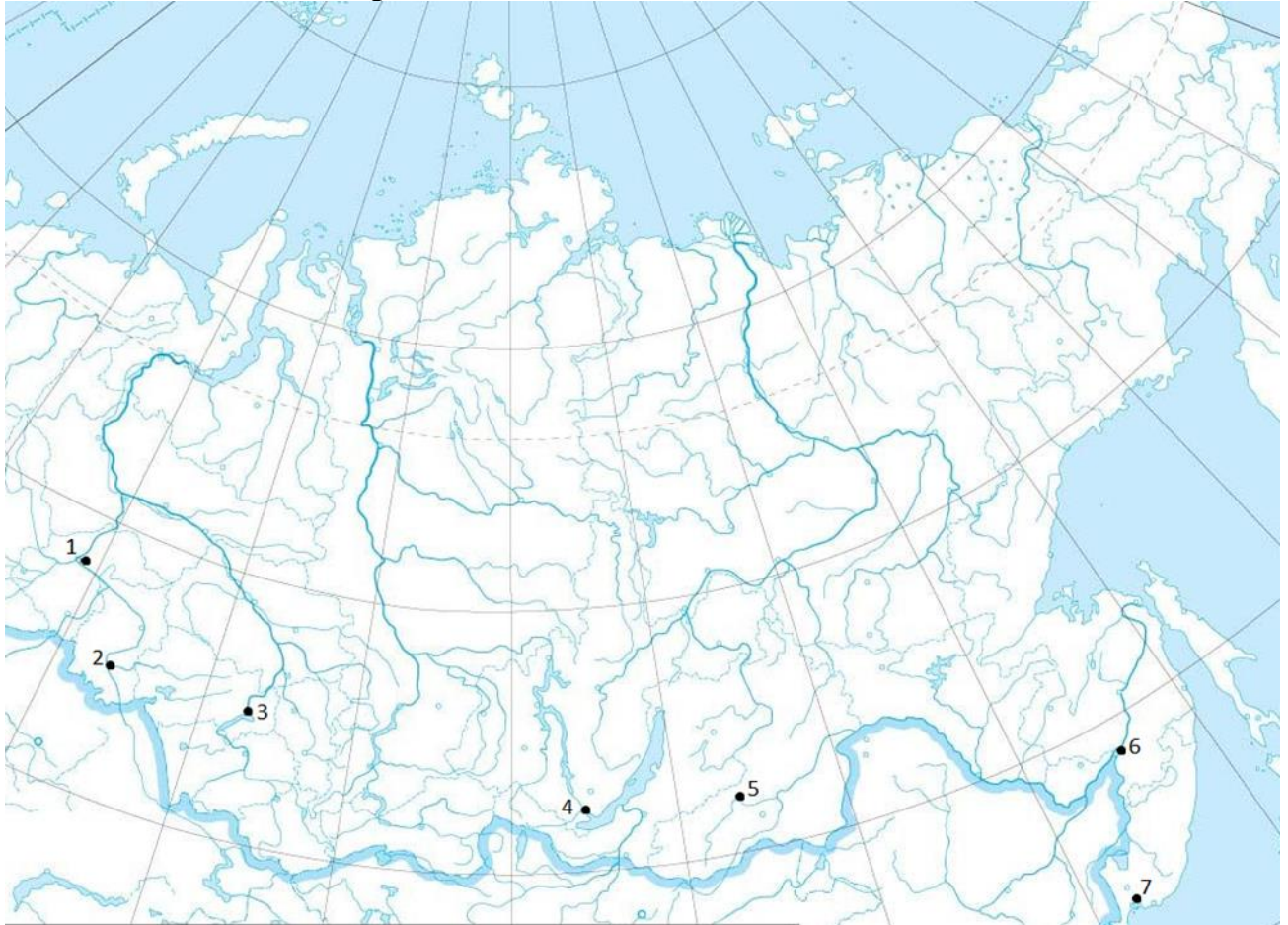


Рисунок 2.



6.1. Укажите современные названия городов, указанных на карте. Ответы занесите в таблицу. Писать ответы необходимо в именительном падеже, с большой буквы. Никаких лишних пробелов и других знаков не должно быть, в противном случае ответ не будет зачтен системой как верный.

6.2. Перед вами годы основания городов, указанных на карте. Сопоставьте название города и год его основания. Ответ занесите в таблицу.

1587	1858
1653	1860
1661	1893
1716	

6.3 На рисунке 2 представлен фрагмент «Чертежной книги Сибири», на которой изображен один из городов, указанных на карте. Напишите название города, а также имя и фамилию (в именительном падеже, с большой буквы) автора этого источника.


Номер города на карте	Современное название города	Год основания
1		
2		

3		
4		
5		
6		
7		

6.3. Название города	
6.3. Имя и фамилия автора источника	

За каждый правильный элемент ответа – 2 балла. Всего 32 балла.


Задание 7. Перед вами изображения памятников архитектуры. Напишите их названия и укажите фамилию архитектора. Обращаем внимание, что указать необходимо только одну фамилию – при указании еще и имени ответ не будет засчитан системой как верный. (6 баллов)



1.



2.



3.

Номер изображения	Название архитектурного сооружения	Фамилия архитектора
1		
2		
3		

За каждый правильный элемент ответа – 1 балл. Всего 6 баллов.

Задание 8. Перед вами фрагменты из работы советского и российского историка о жизни и деятельности одного из правителей российского государства. Прочитайте отрывки и ответьте на вопросы. Ответы занесите в таблицу. Пожалуйста, внимательно прочитайте вопрос и напишите только тот ответ, который от Вас требуется в задании, в противном случае ответ системой засчитан не будет. (10 баллов)

Писатель и историк <...(1)...> утверждал некогда, что <...(2)...> мог бы заслужить славу одного из лучших правителей мира, если бы он родился на троне. В глазах <...(1)...> лишь законные самодержцы были носителями государственного порядка. <...(2)...> узурпировал власть, убив последнего члена царской династии (3), и потому само провидение обрекло его на гибель.

<...(2)...> родился незадолго до покорения Казани, в <...>. Его отец, Федор Иванович, был помещиком средней руки.

Тревожное <...(4)...> время мало благоприятствовало образованию <...(2)...>. Младшие современники считали его вовсе неграмотным.

Царь <...(5)...> умер <...>. Древнюю корону –<...(6)...> – надел на себя <...(2)...>, одержавший победу в борьбе за власть.

Вопросы к тексту:

1 – Укажите фамилию российского писателя и историка, пропущенного в тексте под цифрой 1. (1 балл)

2 – Укажите фамилию исторического деятеля, пропущенного в тексте под цифрой 2. (1 балл).

3 – Укажите имя члена царской династии, о котором говорится в тексте под цифрой 3. (1 балл)

4 – Укажите год взятия московским царем Казани. (1 балл)

5 – Напишите прозвище московского царя, в период царствования которого произошло присоединение Казанского ханства. (1 балл)

6 – Напишите пропущенное под цифрой 4 называемое автором время. (1 балл)

7 – Напишите имя царя, упоминаемого в тексте под цифрой 5. (1 балл)

8 – Напишите год смерти царя, упоминаемого в тексте под цифрой 5. (1 балл)

9 – Укажите название древней короны, упоминаемой автором в приведенном тексте под цифрой 6. (1 балл)

10 – Укажите название периода истории России, начало которому было положено в годы правления исторического деятеля, упоминающегося в тексте под цифрой 2. (1 балл)

Номер вопроса	Ответ
1	
2	
3	
4	
5	
6	
7	
8	
9	
10	

Задание 9. Перед вами список героев Великой Отечественной войны. Соотнесите портреты героев с описанием их деятельности и иллюстрациями, на которых изображены подвиги, которые они совершили и заполните таблицу. (24 балла)

Е.Д. Бершанская
Л.М. Павличенко
Ц.Л. Куников
П.М. Гаврилов

В.Н. Дубинин
Д.Ф. Лавриненко
И.А. Флёрв
Я.Ф. Павлов

Портреты героев Великой Отечественной войны

1



2






3



4






Характеристика деятельности:

1. Снайпер, уничтоживший более 300 солдат и офицеров противника, Герой Советского Союза, награжденный двумя орденами В.И. Ленина.
2. Самый результативный советский танкист Великой Отечественной войны, кубанский казак, Герой Советского Союза, участник битвы за Москву.
3. Герой-пионер, участник одного из керченских партизанских отрядов, не раз ходивший в разведку и добывавший ценные для партизан сведения.

4. Командир бомбардировочного полка, который немцы за его эффективность прозвали «ночные ведьмы».
5. Участник обороны Брестской крепости, после Великой Отечественной войны жил в г. Краснодаре, где сейчас одна из улиц носит имя в его честь.
6. Командир десанта на «Малую землю» в Новороссийске, Герой Советского Союза.
7. Командир первой в РККА батареи реактивной артиллерии БМ-13, не позволил попасть ей в руки врага и погиб вместе с ней.
8. Командир группы бойцов, героически оборонявших 58 дней один из домов Сталинграда.

Иллюстрации



Д		Е	
Ж		З	

<i>ФИО героя Великой Отечественной войны</i>	<i>Характеристика деятельности</i>	<i>Иллюстрация, связанная с деятельностью героя</i>	<i>Портрет героя</i>
Е.Д. Бершанская			
Л.М. Павличенко			
Ц.Л. Куников			
П.М. Гаврилов			
В.Н. Дубинин			
Д.Ф. Лавриненко			
И.А. Флёров			

Я.Ф. Павлов			
-------------	--	--	--

За каждый правильный элемент ответа – 1 балл. Всего 24 балла.