

**ЗАДАНИЯ ЗАКЛЮЧИТЕЛЬНОГО ТУРА**  
**открытой многопрофильной Олимпиады Кубанского государственного**  
**университета для школьников по профилю «История»**  
**10-11 класс**

**Время выполнения заданий – 180 минут.**

**Максимальное количество баллов – 100.**

**Задание 1.** Самое важное в профессии историка – анализ источника, умение извлечь из него необходимую информацию. Вам представлена подборка документов, в которых описывается процесс принятия решения купли-продажи территории, происходивший во второй половине XIX в. Изучите представленные документы и выполните задания. (28 баллов)

**1. Письмо М. Х. Рейтерна – А. М. Горчакову от 2 декабря 1866 г.**

После семидесятилетнего существования компании она нисколько не достигла ни обрусения мужского населения, ни прочного водворения русского элемента и нимало не способствовала развитию нашего торгового мореплавания. Компания даже не приносит существенной пользы акционерам... и может быть только поддерживаема значительными со стороны правительства пожертвованиями. Ныне мы уже прочно водворились в Амурском крае, находящемся в несравненно более выгодных климатических условиях.

Передача колоний... избавит нас от владения, которое в случае войны с одной из морских держав мы не имеем возможности защитить. [Возможны столкновения в колонии с предприимчивыми торговцами и мореплавателями].

Такие столкновения, сами по себе неприятные, легко могли бы поставить нас в необходимость содержать с большими на это расходами военные и морские силы в северных водах Тихого океана для поддержания привилегий компании, не приносящей существенной выгоды ни России, ни даже акционерам, и во вред дружественным нашим отношениям к <...>.

**2. Секретная записка № 26 Н. К. Краббе – А. М. Горчакову от 7 декабря 1866 г.**

Милостивый государь князь Александр Михайлович.

Согласно желанию в. с-ва тайный советник Стебль имел совещание с государем вел. кн. генерал-адмиралом и е. выс-во поручил мне передать Вам взгляд его по предположению об уступке <...> колоний.

Е. выс-во полагает, что девятилетний период, истекший со времени отзыва, который он препроводил к в. с-ву 7 декабря 1857 г., не только ничем не изменяет высказанных им в то время мыслей, но, напротив того, представил несколько новых и существенных в подтверждение их доказательств. В 1857 г. положение наших <...> колоний было далеко не так обстоятельно нам

известно, как ныне, и это ближайшее знакомство, к сожалению, нам показало во всей очевидности, что в отношении этого края мы поставлены, если не навсегда, то по крайней мере на весьма продолжительный срок, в неизбежную необходимость искусственными мерами и денежными со стороны казны пожертвованиями не только поддерживать существование частной компании, доказавшей свою несостоятельность в достижении предназначенных ей целей, но и оставить за нею часть прав, долженствующих принадлежать одним правительственным учреждениям. С другой стороны, значительное развитие, которое получил в эти девять лет При-Амурский край, ясно указывает, где именно на крайнем востоке предстоит России будущность. Если присоединить к этому исключительные выгоды, которые может представить нам тесный союз с <...> и необходимость отстранения всего, что могло бы породить несогласия между двумя великими державами, то нельзя не сказать, что уступка этих отдаленных колоний, не приносящих нам и не могущих принести пользы, не имеющих никакой существенной связи с Россией и которых мы не можем в случае нужды защитить, удовлетворила бы требованиям предусмотрительности и благоразумия.

Передавая этот взгляд государя вел. князя генерал-адмирала в. с-ву, прошу Вас, милостивый государь, принять уверение в отличном моем почтении и искреннейшей к Вам преданности

### **3. Письмо А. М. Горчакова – Александру II от 12 декабря 1866 г.**

Я хотел бы иметь возможность обсудить его в присутствии в. в-ва. Быть может, Вы сообразовали разрешить, чтобы вопрос был обсужден под Вашим высоким председательством в узком комитете ввиду необходимости соблюдения непрременной секретности, который будет состоять только из вел. кн. Константина, г-на Рейтерна и меня. Г-н Стебль мог бы быть приглашен ввиду своего знания местных условий.

### **4. Письмо А. М. Горчакова – е. и. выс-ву вел. кн. Константину.**

Комитет под председательством Государя императора собирается в министерстве иностранных дел в пятницу 16 декабря в час пополудни.

### **5. Записка сотрудника Азиатского департамента МИД Ф. Р. Остен-Сакена.**

Доводы в пользу продажи наших <...> колоний заключаются, сколько известно, в следующем:

- 1) Совершенная для России бесполезность этих колоний.
- 2) Опасения, что рано или поздно они у нас будут отняты.
- 3) Выгоды получить за них довольно значительную сумму денег.

По первому доводу:

В состоянии ли мы в настоящее время составить себе определенное понятие о том, могут ли эти колонии быть полезны России или нет? В

продолжении 70 лет колонии эти находились в исключительном распоряжении безжизненной компании, единственная заслуга которой в отношении к России заключалась в том, что ее существование служило как бы внешним знаком нашего владения и этим воспрепятствовало посторонним державам занять никем не занятое место. В настоящее время правительство, убедившись наконец в несостоятельности Компании, приступило к преобразованию существующего в колониях порядка вещей. Разве правительство уже теперь отчаивается в успехе ответа, задуманного еще в 1860 году, но не приведенного в исполнение?

Из бесполезности Компании можно ли выводить заключение о бесполезности самой земли, которою она заведовала и о которой мы положительно ничего не знаем, за исключением отрывочных сведений, дошедших до нас большей частью через руки той же самой несостоятельной Компании.

По второму доводу:

Положение наших <...> колоний в мире политических отношений может быть названо особенно выгодным. История расширения тамошних владений русских, английских, американских всего лучше разъясняет нам, почему нас уже давно не вытеснили из <...>. Если ознакомиться с историей постоянного соперничества между Англией и Америкой на <...> в течение нынешнего столетия, то становится понятным каким образом ничтожная власть нашей Компании могла уцелеть подле таких могучих соседей. Этим соперничеством, кажется, только и можно себе объяснить выгодные (сравнительно) трактаты 1824 и 1825 годов, а также конвенцию о нейтралитете во время последней войны. Пока существует нынешний порядок вещей в <...>, едва ли основательно опасаться захвата наших Колоний другой державой.

По третьему доводу:

Если бы сумма, которую мы получим за наши колонии была так значительна, что могла бы покрыть известную часть нашего государственного долга, то конечно приманка была бы сильная. Но несколько миллионов и даже десятков миллионов рублей едва ли имеют государственное значение в империи, имеющей около полумиллиарда ежегодного дохода и расхода, и более чем полтора миллиарда долгу.

Опасению, более или менее безотчетному по потере колонии через нападение на нас посторонней державы, может, казалось бы, противоречить другое опасение относительно разных недоразумений, невыгоды, дальнейших захватов и т. п., которым мы сможем подвергнуться, если получим нового ближайшего соседа в лице <...>.

Может быть, эти опасения столь же безотчетны, как первое, но не заслуживают ли некоторого внимания следующие соображения:

Через продажу наших <...> колоний:

1. Сложившееся исторически распределение <...> материка между тремя великими державами будет нарушено.

2. ^

·  
·  
·  
v

3. Ближайшею приманкою для движения вперед представляется возможность иметь в своем исключительном владении важную телеграфную проволоку, которая будет соединять Новый Свет со Старым. Не послужит ли это довольно сильным побудителем, чтобы проложить себе дорогу к Японии и Китаю по грядам вулканических островов, соединяющим Америку и Камчатку, Камчатку и Сахалин и т. д.

Кругосветный телеграф тогда уже безвозвратно будет потерян для Сибири и для Монголии (по отношению к Китаю), он прямо пойдет на юг.

Нельзя не заметить, что во всем вышеизложенном представляются только как бы отрицательные достоинства наших Американских колоний. Что касается до положительных выгод, то действительно они принадлежат только будущему, но казалось бы, что нынешнее поколение имеет святую обязанность сохранить для будущих поколений каждый клочок земли, лежащей на берегу Океана, имеющего всемирное значение.

16 декабря 1866 вечером  
Ф. Остен-Сакен

#### **Задания:**

1. Напишите название Компании, упоминаемой в представленных документах, год основания данной Компании (2 балла).

**Ответ: Российско-американская компания. 1799 г.**

2. Напишите название территории, о купле-продаже которой идет речь в представленных документах (1 балл).

**Ответ: Аляска, Аляскинский п-ов.**

3. Напишите название должностей, которые занимали составители ряда представленных документов – М.Х. Рейтерн, А.М. Горчаков, Н.К. Краббе (3 балла)

**Ответы:**

**М.Х. Рейтерн – министр финансов,**

**А.М. Горчаков – министр иностранных дел,**

**Н.К. Краббе – управляющий морским министерством.**

4. Укажите количественный состав Комитета под председательством Александра II, о заседании которого просил А.М. Горчаков. Свой ответ аргументируйте (7 баллов).

**Ответ: в источнике 3 перечисляются пять возможных членов Комитета (по одному баллу за указание на имя и/или фамилию возможного участника Комитета). Утверждать однозначно о**

**количественном составе Комитета не приходится. Возможно, в источниках отражены не все участники. За такой вывод Вы могли получить +2 балла**

**5. Можно ли утверждать о единстве мнений лиц, составивших представленные в проекте документы по вопросу купли-продажи обсуждаемой территории? Ответ аргументируйте (до 3 баллов).**

**Ответ: четко должно быть указано, что составители представленных документов склонялись в пользу продажи Аляски, за исключением Ф. Р. Остен-Сакена (1 балл за указание, что Ф.Р. Остен-Сакен был против продажи Аляски + 2 балла за примеры).**

**6. Какой из представленных документов не мог являться определяющим в процессе принятия решения купли-продажи, обсуждаемой в представленных документах территории. Ответ аргументируйте (2 балла).**

**Ответ: документ 5 был составлен уже после принятия решения о продаже Аляски. Об этом свидетельствует время составления документа 5 (16 декабря 1866 вечером) и время собрания Комитета, что отражено в документе 4 (16 декабря в час пополудни).**

**7. Составьте аналитическую записку (краткое резюме) монарху по вопросу целесообразности купли-продажи обсуждаемой в представленных документах 1 и 2 территории (в ответе укажите длительность рассмотрения вопроса купли-продажи территории, обсуждаемой в представленных документах. Какую позицию по вопросу купли-продажи, обсуждаемой в представленных документах территории, занимал каждый из представленных (прямо или косвенно) в документах официальных лиц? Эволюционировала ли их позиция? Какими аргументами они оперируют?) (до 5 баллов).**

**Ответ: Как видим из документа 2 вопрос о продаже Аляски длится минимум 9 лет – 1 балл.**

**Из документа 1 и 2 мы можем сделать вывод, что великий князь Константин и министр финансов М.Х. Рейтерн склоняются к продаже этой территории и прежде всего из-за экономической и оборонной целесообразности – 2 балла.**

**Мнение участников Комитета оставалось неизменным. Об этом свидетельствует документ 2, в котором содержится информация о том, что мнение великого князя Константина остается неизменным на протяжении 9 лет – 1 балл.**

**За эти же 9 лет Приамурский край получил значительное развитие, тогда как Северо-Американские колонии нуждаются в жертвованиях со стороны казны – 1 балл.**

**8. Подписание какого документа стало итогом решения вопроса купли-продажи обсуждаемой в представленных документах территории? Укажите дату подписания документа (число, месяц, год)? (4 балла).**

**Ответ: Договор о продаже Россией полуострова Аляска США 18 (30) марта 1867 г.**

**9. Укажите сумму сделки, по условиям которой была совершена купля-продажа территории, обсуждаемая в представленных документах (1 балл).**

**Ответ: 7 млн. 200 тыс. долл. золотой монетойю.**

**Всего за задание – 28 баллов.**

**Задание 2.** Для историка также важно уметь анализировать изобразительные источники. Внимательно рассмотрите иллюстрацию и ответьте на вопросы, посвященные представленной картине. (15 баллов)



**Задание 2.1.** Напишите фамилию автора данного художественного произведения.

Ответ:

Булатов (Эрик Булатов)

**Задание 2.2.** Одним из основателей какого художественного течения является автор данной картины?

Ответ:

соц-арт (Соц-арт)

**Задание 2.3.** Напишите название представленной картины

Ответ:

Картина и зрители («Картина и зрители»)

**Задание 2.4.** В каком веке была создана данная картина? Ответ запишите цифрой.

Ответ:

21 (21 век; 21 в., XXI; XXI век; XXI в.)

**Задание 2.5.** В каком музее находится представленная картина?

Ответ:

Государственная Третьяковская галерея (Третьяковская галерея; Третьяковка)

**Задание 2.6.** На каком валу расположен музей, в котором размещается представленная картина?

Ответ:

Крымский (Крымский вал; на Крымском; на Крымскому валу)

**Задание 2.7.** На основе какой картины было создано представленное художественное произведение? Напишите ее название.

Ответ:

Явление Христа народу («Явление Христа народу»; «Явление Мессии»; Явление Мессии)

**Задание 2.8.** Кто автор картины, на основе которой создано представленное художественное произведение? Напишите его фамилию.

Ответ:

Иванов.

**Задание 2.9.** На какой слог падает ударение в фамилии художника – автора оригинального произведения, на основе которого создана представленная картина. Ответ укажите цифрой.

Ответ:

1.

**Задание 2.10.** В каком веке было создано художественное полотно, ставшее основой представленного произведения? Ответ запишите числом.

Ответ:

19 (19 век; 19 в., XIX; XIX век; XIX в.)

**Задание 2.11.** В каком городе долгое время создавалось художественное полотно, ставшее основой представленного произведения?

Ответ:

Рим

**Задание 2.12.** Сколько лет создавалось художественное полотно, ставшее основой представленного произведения? Ответ запишите числом.

Ответ:

20.

**Задание 2.13.** Возле какой реки происходят действия на полотне, ставшем основой представленного произведения?

Ответ:

Иордан

**Задание 2.14.** Какой император первым посмотрел картину, ставшую основой представленного произведения?

Ответ:

Александр Второй (Александр 2; Александр II; Александр Освободитель)

**Задание 2.15.** Какой русский классик, согласно легенде, запечатлен на картине, ставшей основой представленного произведения? Напишите его фамилию.

Ответ:

Гоголь (Н.В.Гоголь; Н.Гоголь)

За каждый правильный ответ – 1 балл. Всего 15 баллов.

**Задание 3.** Разгадайте исторические загадки. Ответить на вопросы Вам поможет не только знание исторических фактов, но и умение логически мыслить. (10 баллов)

**Задание 3.1.** Она появилась при Петре I, распространилась при Екатерине II, а при Николае I стала причиной многочисленных крестьянских бунтов. Напишите ее название.

Ответ:

Картошка (картофель)

**Задание 3.2.** Именно она была у И.С. Тургенева и Н.С. Лескова, но отсутствовала у Н.В. Гоголя и А.С. Грибоедова, была у Л.Н. Толстого и Ф.М. Достоевского, но не успела появиться у М.Ю. Лермонтова. Назовите ее.

Ответ:

борода.

**Задание 3.3.** Эти 2 художественные «игры» начали покорять мир с разницей в 10 лет – в 2011 и 2021 г. Назовите обе «игры» через запятую.

Ответ:

Игра престолов, Игра в кальмара («Игра престолов», «Игра в кальмара»; Игра в кальмара, Игра престолов; «Игра в кальмара», «Игра престолов»)

**Задание 3.4.** Один из любимых писателей этого актера – Михаил Булгаков. Он даже сыграл роль в экранизации сборника русского классика «Записки юного врача». Однако более он известен другой ролью, персонаж которого также



связан со сверхъестественными силами. Напишите имя и фамилию этого персонажа.

Ответ:

Гарри Поттер

**Задание 3.5.** Эта рок-группа получила наименование от прозвища индустриального Левобережного района Воронежа, названного так из-за обилия заводов. Также это – наименование района частично признанного государства, где регулярно вспыхивают военные конфликты. Напишите их общее название.

Ответ:

Сектор Газа (Сектор газа; «Сектор газа»; «Сектор Газа»)

**Задание 3.6.** «Они» были и у А.С. Пушкина, и у Ф.М. Достоевского, и у режиссера В.И. Хотиненко. Назовите «их».

Ответ:

Бесы («Бесы»)

**Задание 3.7.** Эти 2 элемента – общие у поэта Пушкина, дипломата Грибоедова и композитора Даргомыжского. Напиши через запятую оба этих элемента.

Ответ:

Имя, отчество (имя, отчество; имя, отчество; имя, отчество).

**Задание 3.8.** Впервые они появились в Москве в XV веке, затем были заменены в XVII веке, а современный вид приняли только в XVIII в.

Ответ:

Куранты (Часы на Спасской башне)

**Задание 3.9.** В этой картине И.И. Левитана нет ни одного персонажа, однако в ней «глубокое общественное содержание выражено органически пейзажно и непосредственно».

Ответ:

Владимирка; «Владимирка».

**Задание 3.10.** В этот объект существует 4 входа. Однако, чтобы зайти, вы сможете использовать только 2 входа. Выйти вы также сможете через 2 выхода, однако один из них будет уже не тем, что использовался для входа. Назовите этот объект.

Ответ: Московский Кремль; Кремль.

За каждый правильный ответ – 1 балл. Всего 10 баллов.

**Задание 4.** Прочитайте отрывки из текстов мирных договоров России и Османской империи и напишите названия этих мирных договоров.

**Укажите год заключения договора (четырёхзначное число, без каких-либо букв). (14 баллов)**

**А.** Первой статьёй предварительных пунктов, наперед уже подписанных, постановлено, что река Прут со входа ее в Молдавию до соединения ее с Дунаем и левый берег Дуная с сего соединения до устья Килийского и до моря, будут составлять границу обеих империй, для коих устье сие будет общее. Небольшие острова, кои до войны не были обитаемы, и начиная напротив Измаила до помянутого устья Килийского находятся ближе к левому берегу, имеющему принадлежать России, не будут обладаемы ни единой из обеих держав, и на оных впредь никаких не делать укреплений, ни строений, но островки сии останутся пусты, и обоюдные подданные могут туда приезжать единственно для рыболовли и рубки леса.

**Б.** Е.в. султану предоставляется право заботиться о защите морских и сухопутных границ области, воздвигая укрепления на этих границах и содержа в них войско. Внутренний порядок охраняется в Восточной Румелии туземной стражей при содействии местной милиции. При формировании как стражи, так и милиции, коих офицеры назначаются султаном, будет принято во внимание, смотря по местностям, вероисповедание жителей.

Е.и.в. султан обязуется не употреблять в пограничных гарнизонах иррегулярных войск, как-то: башибузуков и черкесов. Регулярные же войска, назначаемые для этой службы, ни в каком случае не будут размещаться по обывательским домам. При переходе чрез область войска эти не будут делать в ней остановок.

**В.** Крепость Азовская имеет вовсе разорена быть, и в разсуждении истиннаго и вечнаго мира, земля той крепости, по учрежденным границам 1700 года трактата, имеет остаться пустая, и между двумя Империями барьерою служить будет, но взаимно позволено да будет России новую крепость построить, в близости острова Черкаскаго к Азову, который остров стоит на реке Дону и из давних лет Российскойю границею есть; також со стороны Оттоманской Империи позволено будет на Кубанских границах к Азову крепость построить, по определению местоположений помянутых крепостей, которое от учрежденных с обеих сторон Коммиссаров назначено будет, на которых справедливость и дискрецию такое учреждение положено быть иметь, с такой однакож кондициею, чтоб бывшая крепость Таганрог, которая уже разорена, вновь возобновлена не была, и чтоб Российская Держава, ни на Азовском море, ни на Черном море, никакой корабельный флот, ниже иных кораблей иметь и построить не могла.

**Г.** В следствии того, как в прелиминарном втором артикуле положено, что река Днестр навеки имеет быть границею между обеими Империями, так что впредь пределы Империи Всероссийской имеют простираться до помянутой реки, и ныне обе договаривающияся Империи между собою согласились и

постановили, что между Империею Всероссийскою и Портою Оттоманскою пребудет границею река Днестр, так, что все земли, на левом берегу помянутой реки лежащая, имеют остаться вечно в совершенном и безпрепятственном владении Всероссийской Империи, а на правом берегу помянутой реки и лежащая все земли, по возвращении их со стороны Всероссийской Империи, имеют остаться вечно в совершенном и безпрепятственном владении Порты Оттоманской.

Д. Е.в. император всероссийский и е.в. император оттоманов, движимые желанием возвратить и обеспечить своим государствам и своим народам благоденствия мира, а также предупредить всякое новое усложнение, которое могло бы угрожать этому миру, назначили в качестве своих полномочных, для установления, заключения и подписания прелиминарного мирного договора: е.в. император всероссийский с одной стороны - графа Николая Игнатъева... г-на Александра Нелидова.....

и е.в. император оттоманов с другой - Сафвета-пашу, министра иностранных дел... и Садуллах-бея, посла е.в. при германском императорском дворе.

Е. Их величества император всероссийский, император французов, королева Соединенного Королевства Великобритании и Ирландии, король сардинский и султан даруют полное прощение тем из их подданных, которые оказались виновными в каком-либо в продолжение военных действий соучастии с неприятелем.

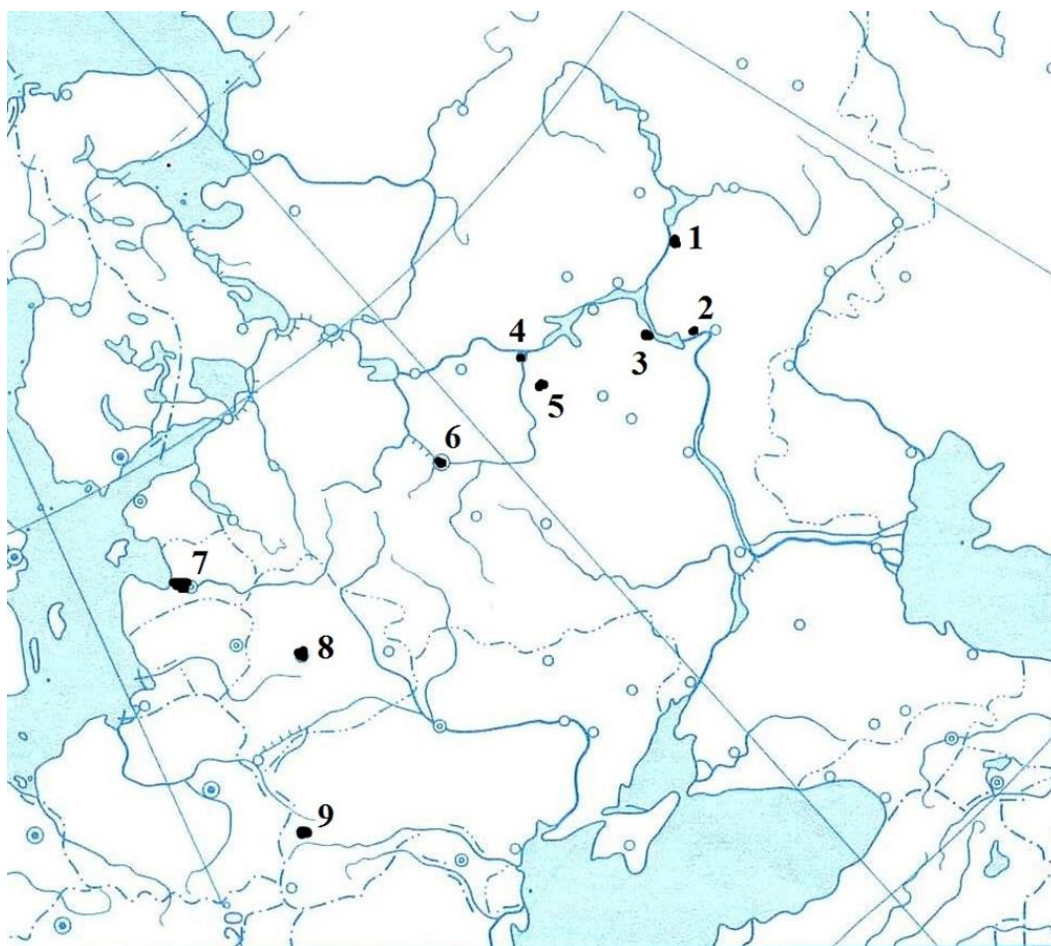
Ж. Все татарские народы: крымские, бюджетские, кубанские, едисанцы, жамбуйлуки и едичкулы, без изъятия от обеих империй имеют быть признаны вольными и совершенно независимыми от всякой посторонней власти, но пребывающими под самодержавной властью собственного их хана чингисского поколения, всем татарским обществом избранного и возведенного, который да управляет ими по древним их законам и обычаям, не отдавая отчета ни в чем никакой посторонней державе; и для того ни российский двор, ни Оттоманская Порта не имеют вступаться как в избрание и возведение помянутого хана, так и в домашние, политические, гражданские и внутренние их дела ни под каким видом, но признавать и почитать оную татарскую нацию в политическом и гражданском состоянии по примеру других держав, под собственным правлением своим состоящих, ни от кого, кроме единого Бога, не зависящих...

<i>отрывок</i>	<i>договор</i>	<i>год</i>
А	Бухарестский мирный договор	1812
Б	Берлинский трактат	1878
В	Белградский трактат	1739
Г	Ясский мирный договор	1791 (засчитывается также 1792)

Д	Сан-Стефанский мирный договор	1878
Е	Парижский трактат	1856
Ж	Кючук-Кайнарджийский мирный договор	1774

За каждый правильный ответ – 1 балл. Всего 14 баллов.

**Задание 5. СССР славился своей автопромышленностью. Многие произведенные в те времена машины ездят по нашим улицам до сих пор. Сохранились и некоторые заводы тех времен. Вам дана карта, на которой указано местонахождение известных автомобильных заводов СССР. Также Вам даны логотипы, под которыми они производили свою продукцию. Соедините эти логотипы с номерами городов, в которых они расположены, укажите современные названия этих городов и буквы, под которыми представлены автомобили, производившиеся на данных заводах. (27 баллов)**



Автомобили:

A



Б



В



Г





Д



Е



Ж










З



И



Логотип и таблица:

Логотип	Номер города на карте	Название города	Буква, под которой изображен автомобиль, выпускавшийся на данном заводе
			
			
			
			
			
			
			


Ответ:

За каждый правильный элемент ответа – 1 балл. Всего 27 баллов.

Логотип	Номер города на карте	Название города	Буква, под которой изображен автомобиль, выпускавшийся на данном заводе
	1	Набережные Челны	Б
	9	Львов	Ж
	7	Рига	Г
	5	Павлово	Д
	4	Нижний Новгород	А
	2	Тольятти	И
	8	Минск	Е
	3	Ульяновск	В
	6	Москва	З

**Задание 6.** Перед вами портретная галерея русских правителей из известного дипломатического русского источника, написанного в 1672 г и фрагменты текстов «Истории государства российского» Н.М.



**Карамзина, характеризующие деятельность русских правителей. Внимательно изучите материалы и ответьте на вопросы. (6 баллов)**

**Задание 6.1.** Напишите название дипломатического документа, написанного в 1672 г и содержащего представленные портреты русских правителей.

Ответ:

Царский титулярник (Корень российских государей, Большая государева книга, Титулярник)

За правильный ответ – 1 балл.

**Задание 6.2.** Заполните таблицу, сопоставив портреты и отрывки из текстов.

**Портреты:**





### Источники:

**А.** «Сей Князь, возмужав, думал единственно о подвигах великодушной храбрости, пылал ревностью отличить себя делами и возобновить славу оружия Российского, столь счастливого при Олеге; собрал войско многочисленное и с нетерпением юного Героя летел в поле. Там суровую жизнь он укрепил себя для трудов воинских, не имел ни станов, ни обоза; питался кониною, мясом диких зверей и сам жарил его на углях; презирал хлад и ненастье северного климата; не знал шатра и спал под сводом неба: войлок подседельный служил ему вместо мягкого ложа, седло изголовьем.»

**Б.** «<...> заслужил в летописях имя Государя мудрого; не приобрел оружием новых земель, но возвратил утраченное Россиею в бедствиях междоусобия; не всегда побеждал, но всегда оказывал мужество; успокоил отечество и любил народ свой. Следуя в правлении благодетельным намерениям Владимира, он хотел загладить вину ослушного сына и примириться с тению огорченного им отца.

Внешняя политика <...> была достойна Монарха сильного: он привел Константинополь в ужас за то, что оскорбленные Россияне требовали и не нашли там правосудия; но, отмстив Польше и взяв свое, великодушною помощью утвердил ее целость и благоденствие.»

**В.** «В княжение <...> были основаны города Курмыш и Серпухов; первый ... Борисом Константиновичем Городецким, а второй ... Князем Владимиром Андреевичем, который, чтобы приманить туда людей, дал жителям многие выгоды и льготу, оградил его дубовыми стенами и сделал в нем Наместником своего Окольного, Якова Юрьевича Новосильца. Новорогородцы, в ... начав строить каменную крепость Яму на берегу Луги (ныне Ямбург), совершили оную в 33 дня; а в ... обвели Порхов также кирпичными стенами, вместо прежних деревянных. — Знаменитые монастыри Чудов, Андроньев, Симоновский в Москве, Высоцкий близ Серпухова и другие остались также памятниками времен <...>.»

Г. «Завоеванием Минска и приобретением <...> утвердил свое могущество внутри Государства, но не думал переменить системы наследственных Уделов, столь противной благу и спокойствию отечества. Долговременное обыкновение казалось тогда уже законом; или <...> боялся отчаянного сопротивления Князей Черниговских, Полоцких и Ростиславичей, которые не уступили бы ему прав своих без страшного кровопролития. Он не имел дерзкой решительности тех людей, кои жертвуют благом современников неверному счастью потомства; хотел быть первым, а не единственным Князем Российским: покровителем России и Главою частных Владетелей, а не Государем Самодержавным»

Д. «Царь говорил и действовал, опираясь на чету избранных, ..., которые приняли в священный союз свой не только благоразумного Митрополита, но и всех мужей добродетельных, опытных, в маститой старости еще усердных к отечеству и прежде отгоняемых от трона, где ветреная юность не терпела их угрюмого вида. Ласкатели и шуты онемели при Дворе; в Думе заграждались уста наветникам и кознодеям, а правда могла быть откровенною. Несмотря па доверенность, которую <...> имел к Совету, он сам входил и в государственные и в важнейшие судные дела, чтобы исполнить обет, данный им Богу и России. Везде народ благословил усердие правительства к добру общему, везде сменяли недостойных Властителей: наказывали презрением или темницею, по без излишней строгости; хотели ознаменовать счастливую государственную перемену не жестокою казнию худых старых чиновников, а лучшим избранием новых, как бы объявляя тем народу, что злоупотребления частной власти бывают обыкновенным неминуемым следствием усыпления или разврата в главном начальстве: где оно терпит грабеж, там грабители почти невинны, пользуясь дозволяемым.»

Ответ:

<i>Источник</i>	<i>№№</i>	<i>Имя правителя</i>
А	4	Святослав Игоревич
Б	1	Ярослав Мудрый
В	2	Дмитрий Донской
Г	3	Владимир Мономах
Д	5	Иван IV Грозный

За каждый правильный элемент ответа ответ – 0,5 балла. Всего 5 баллов

Всего за задание 6 баллов.