

**Тематический блок 1**  
**Ответьте на вопросы и выполните задания**

**1. На рисунке изображен денежный знак государства. Извлеките из фото географическую информацию, ответив на вопросы в таблице.**



Рисунок 1 – Денежный знак государства

№	Вопрос	Ответ*	для жюри
1	Назовите государство-эмитент.		
2	К какой части света относится это государство?		
3	Воды какого океана омывают берега государства?		
4	Назовите столицу государства.		
5	Какой тип климата представлен на территории государства		
6	Птица, изображенная на лицевой стороне банкноты, украшает герб государства и является символом этой страны. Назовите эту птицу.		
7	Назовите (одним словом) собирательный этноним, распространенный на территории государства.		

**2. Выполните задание.**

Назовите диапазоны широт в Южном полушарии, в которых 22 декабря можно наблюдать Солнце строго на юге и укажите, где оно будет в этот день в зените. Ход ваших рассуждений запишите.

Ответ:

---

---

---

---

---

---

---

---

---

---







ОТКРЫТАЯ МНОГОПРОФИЛЬНАЯ ОЛИМПИАДА КУБАНСКОГО  
ГОСУДАРСТВЕННОГО УНИВЕРСИТЕТА ДЛЯ ШКОЛЬНИКОВ  
ГЕОГРАФИЯ  
2022/2023 учебный год  
10-11 класс



**Тематический блок 2**  
**Выполните тестовые задания**

1. Островные крайние точки России находятся на островах
  - 1) Уединения и Ушакова
  - 2) Рудольфа и Ратманова
  - 3) Ратманова и Крузенштерна
  - 4) Крузенштерна и Лисянского
  
2. К бассейну Атлантического океана относятся реки
  - 1) Дон и Кубань
  - 2) Кубань и Терек
  - 3) Терек и Северная Двина
  - 4) Волга и Дон
  
3. Укажите представителя орнитофауны Новой Зеландии
  - 1) тукан
  - 2) казуар
  - 3) какапо
  - 4) эму
  
4. Ополя характерны для
  - 1) Дальнего Востока
  - 2) Средней Сибири
  - 3) Западной Сибири
  - 4) Восточно-Европейской равнины
  
5. Укажите архипелаг российского сектора Арктики, открытый австрийской экспедицией
  - 1) Новосибирские острова
  - 2) Северная Земля
  - 3) Земля Франца-Иосифа
  - 4) Шпицберген
  
6. Нарастание континентальности климата Западной Сибири проявляется в
  - 1) более холодной зиме и большем количестве осадков
  - 2) более холодной зиме и меньшем количестве осадков
  - 3) более теплой зиме и большем количестве осадков
  - 4) более теплой зиме и меньшем количестве осадков
  
7. Какой вклад внес Ломоносов в географию?
  - 1) совершил путешествие на Камчатку;
  - 2) изучал атмосферу;
  - 3) ввел понятие об экономической географии;
  - 4) совершил экспедицию в Сибирь.
  
8. Что такое элювиальные отложения?
  - 1) продукты горных пород, смываемые под влиянием морозящих дождей
  - 2) продукты выветривания, которые образуются под влиянием бурных потоков(ливни)
  - 3) продукты горных пород, оставшиеся на месте своего образования после выветривания
  - 4) отложения постоянно действующих водных потоков, рек



ОТКРЫТАЯ МНОГОПРОФИЛЬНАЯ ОЛИМПИАДА КУБАНСКОГО  
ГОСУДАРСТВЕННОГО УНИВЕРСИТЕТА ДЛЯ ШКОЛЬНИКОВ  
ГЕОГРАФИЯ  
2022/2023 учебный год  
10-11 класс



9. Город Балашов в Саратовской области был основан в XVIII веке, на его официальном гербе изображена ягода, которая здесь произрастает в избытке.

- |              |           |
|--------------|-----------|
| 1) Брусника  | 3) Арбуз  |
| 2) Шелковица | 4) Рябина |

10. Существуют государства, которые состоят из множества островов - от довольно крупных до совсем крохотных. Назовите островное государство в Юго-Восточной Азии, которое включает в себя более 7600 остров.

- |                      |           |
|----------------------|-----------|
| 1) Филиппины         | 3) Фиджи  |
| 2) Багамские острова | 4) Тувалу |

11. Одна страна может располагаться в разных частях света. А как называется единственный в мире город, который может похвастаться тем же?

- |            |            |
|------------|------------|
| 1) Манагуа | 3) Каир    |
| 2) Омск    | 4) Стамбул |

12. В этом небольшом, но популярном круглогодичном курорте в Швейцарии полностью запрещено передвижение на автомобилях. Назовите этот курортный центр.

- |            |             |
|------------|-------------|
| 1) Базель  | 2) Лугано   |
| 3) Церматт | 4) Бардонне |

13. Центрами судостроения являются:

- 1) Санкт-Петербург, Благовещенск, Коломна
- 2) Санкт-Петербург, Северодвинск, Нижний Новгород
- 3) Санкт-Петербург, Тверь, Брянск
- 4) Владивосток, Находка, Абакан

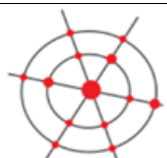


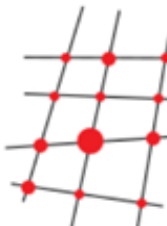
14. Какая страна является европейским лидером по числу и мощности АЭС:

- |             |                   |
|-------------|-------------------|
| 1) Бельгия  | 3) Великобритания |
| 2) Германия | 4) Франция        |

15. В азиатской части России самым крупным центром черной металлургии является:

- |                         |                |
|-------------------------|----------------|
| 1) Находка              | 3) Новокузнецк |
| 2) Комсомольск-на-Амуре | 4) Иркутск     |

16. На уровне географических районов России и субъектов Федерации (регионов России) можно выделить различные особенности территориальной структуры. Напишите название соответствующего типа территориальной структуры хозяйства и расселения населения:

№	Тип территориальной структуры хозяйства и расселения населения		Для жюри
	Рисунок	Название	
1			
2			
3			
4			

Ответ:

1	2	3	4

17. Установите соответствие:

Столица	Государство
1) Сува	А) Греция
2) Афины	Б) Ботсвана
3) Габороне	В) Аргентина
4) Буэнос-Айрес	Г) Мьянма
	Д) Фиджи

Ответ:

1	2	3	4





ОТКРЫТАЯ МНОГОПРОФИЛЬНАЯ ОЛИМПИАДА КУБАНСКОГО  
ГОСУДАРСТВЕННОГО УНИВЕРСИТЕТА ДЛЯ ШКОЛЬНИКОВ  
ГЕОГРАФИЯ  
2022/2023 учебный год  
10-11 класс



--

18. Распределите острова

	1) Вуди
	2) Монсен
а) Азии	3) Зильт
б) Европы	4) Чагос
	5) Акилл
	6) Минданао

Ответ:

а)	б)

19. Русский ученый в 1920-1930-х гг. доказал, что развитие экономики происходит не в виде прямолинейного роста, а поэтапно, блоками. Это связано с тем, что структура промышленности не остается неизменной. На разных этапах развития то одна то другая отрасль выходит на первый план.

Вопрос	Ответ	Балл для жюри
Как звали этого ученого?		
Какое название получили эти исторические этапы?		

20. Географическая оболочка – это комплексная внешняя оболочка, в которой взаимопроникают и взаимодействуют все оболочки Земли. Какие сферы или их части входят в состав географической оболочки? Выберите правильные ответы.

1. Вся атмосфера;
2. Приземная часть атмосферы до озонового экрана;
3. Вся гидросфера;
4. Воды Мирового океана;
5. Воды суши;
6. Подземные воды;
7. Вся литосфера;
8. Верхняя часть земной коры;
9. Мантия
10. Почва;
11. Вся биосфера;
12. Часть биосферы: только растительность;
13. Часть биосферы: только животный мир.
14. Ближний космос
15. Магнитное поле Земли.