



Тематический блок 1
Ответьте на вопросы и выполните задания

1. Рассмотрите денежные знаки, представленные на рис. 1. На обеих купюрах изображен архипелаг, права на владение которым оспаривают два государства, находящиеся в разных частях света. Извлеките из изображения купюр географическую информацию.



Рисунок 1 - Денежные знаки, посвященные Фолклендским островам

Проанализировав изображение и текст, дайте ответы на следующие вопросы (таблица).

Таблица

Вопрос	Ответ	Балл (для жюри)
Приведите оба варианта названия архипелага.		
Когда и кем был открыт этот архипелаг?		
В 1764 г. на архипелаге появилось первое европейское поселение, получившее название Порт Сен-Луи. Поселение основал человек, двумя годами позже возглавивший первую французскую кругосветную экспедицию. Назовите фамилию этого человека.		



**ОТКРЫТАЯ МНОГОПРОФИЛЬНАЯ ОЛИМПИАДА КУБАНСКОГО
ГОСУДАРСТВЕННОГО УНИВЕРСИТЕТА ДЛЯ ШКОЛЬНИКОВ**
ГЕОГРАФИЯ
2024/2025 учебный год
10-11 класс



Назовите два государства, оспаривающие права на владение архипелагом.		
К каким частям света относятся эти государства?		
Назовите океан, омывающий берега архипелага.		
Назовите административный центр территориального образования, расположенного на архипелаге.		
Как называется пролив между двумя главными островами архипелага?		
Какой буквой обозначена банкнота, являющаяся платежным средством на архипелаге в настоящее время?		
Укажите государственную принадлежность купюры, обозначенной буквой Б.		
Как называется язык, использованный при печати банкноты, обозначенной буквой Б?		
Назовите столицу государства, выпустившего банкноту, обозначенную буквой Б.		

2. Ознакомьтесь с иллюстрацией и ответьте на вопросы.

Вопрос	Ответ	Для жюри
Фрагмент какой части света изображен на рис.2?		
К какому материку эта часть света относится?		
Обозначьте буквой В на карте самые высокие горы. Как они называются?		
Обозначьте буквой А самую глубокую впадину на суше. Как она называется? Какой гидрографический объект в этой впадине находится?	<p>_____</p> <p><i>Впадина</i></p> <p><i>объект</i></p>	<p>_____</p> <p><i>Гидрографический</i></p>
Назовите самую высокую точку этой части света. Укажите ее высоту.		
Как называются изолинии, проведенные на карте?		
Назовите самую длинную реку этой части света.		
Как называется самое влажное (где выпадает больше всего осадков) место этой части света?		

<p>Укажите название самого крупного пресноводного озера этой части света и обозначьте его на карте буквой Д.</p>		
<p>Как называется теплое течение, обозначенное на карте стрелкой Е?</p>		
<p>Какие сезонные ветры влияют на климат юга, юго-востока и востока этой части света?</p>		
<p>Объясните, почему на восточном побережье в пункте Б выпадает намного больше осадков, чем в пункте Г.</p>	<p>1) 2) 3)</p>	

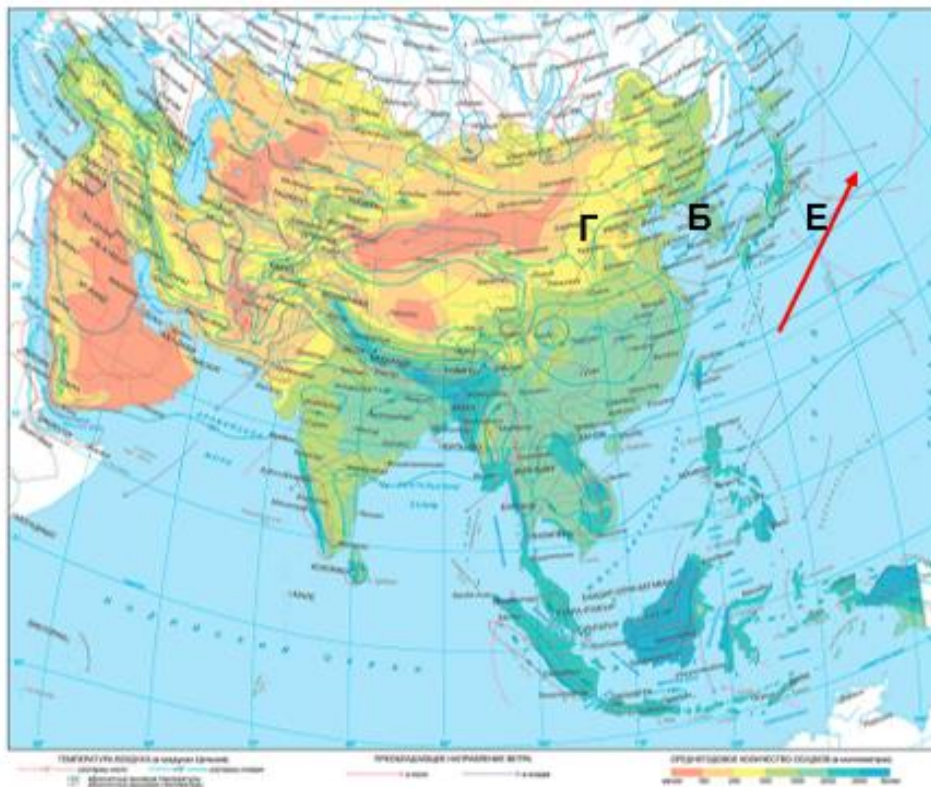


Рисунок 2 – Климатическая карта фрагмента части света
(https://www.sharada.ru/_mod_files/ce_images/eshop/2023/rmxq0bk7.jpg)

3. Всё население планеты Земля принадлежат к одному виду — Человек разумный (*Homo sapiens*), но люди бывают с разным цветом кожи. Внешние признаки, по которым одна группа людей, отличается от другой, называются расовыми. **Раса** — группа популяций человека, имеющих сходные наследственные морфологические и физиологические признаки и общее географическое происхождение. Точная причина расовых различий ещё не выяснена. Одни ученые предполагают, что на Земле было несколько очагов зарождения человека и расовые признаки передавались по наследству. Другие ученые считают, что формирование рас произошло 80 — 40 тыс. лет назад и имело адаптивный характер, т.е. люди, расселяясь по Земле, приспособлялись к разным природным условиям. Современные антропологи не пришли к общему мнению о количестве рас, по наиболее распространенной версии существуют 4 крупные расы. Кроме того, в местах пересечения ареалов распространения крупных рас можно выделить смешанные расы, например, эфиопы, у которых темный цвет кожи сочетается с европеоидными чертами лица.

Заполните таблицу: определите представителей расы, укажите районы их географического происхождения, а НЕ современного расселения и **ОДИН** пример этноса:

Раса	Признаки	Географическое происхождение	Этнос
	светлая или смуглая кожа; прямые или волнистые волосы; хорошо развит волосяной покров на лице у мужчин (борода и усы); узкий выступающий нос; тонкие губы		
	смуглая или светлая кожа; прямые, часто жесткие черные волосы; волосяной покров на лице и теле развит слабо; уплощенное широкое лицо с сильно выступающими скулами; средняя ширина губ и носа; узкие глаза с эпикантусом — складкой верхнего века, закрывающей внутренний угол глаза.		
	темный цвет кожи; темные курчавые или волнистые волосы; волосяной покров на теле развит слабо; широкий и мало выступающий нос; толстые губы; темные глаза		
	кожа смуглая, коричневых оттенков; волосы вьющиеся, черные, сильно выгорающие; сильно развит волосяной покров на лице и теле у мужчин; черные глаза; массивное надбровье; крупные челюсти; широкие губы и нос		



ОТКРЫТАЯ МНОГОПРОФИЛЬНАЯ ОЛИМПИАДА КУБАНСКОГО
ГОСУДАРСТВЕННОГО УНИВЕРСИТЕТА ДЛЯ ШКОЛЬНИКОВ
ГЕОГРАФИЯ
2024/2025 учебный год
10-11 класс



Напишите название наиболее распространённых смешанных рас:

4. В некотором пункте высота полуденного стояния Солнца над горизонтом $25^{\circ}25'$. В этот день полуденное Солнце находится в зените на $20^{\circ}12'$ ю. ш. На какой широте находится данный пункт? Напишите в каком месяце день, о котором говорится в задании.

Ответ:



**ОТКРЫТАЯ МНОГОПРОФИЛЬНАЯ ОЛИМПИАДА КУБАНСКОГО
ГОСУДАРСТВЕННОГО УНИВЕРСИТЕТА ДЛЯ ШКОЛЬНИКОВ**
ГЕОГРАФИЯ
2024/2025 учебный год
10-11 класс



Тематический блок 2
Выполните тестовые задания

1. Этот великий ученый античного мира в IV веке до н.э. пришел к выводу о шарообразности Земли. К этому его подтолкнули многочисленные наблюдения, например, за лунными затмениями. От Земли падала тень дугообразной формы.

- | | |
|---------------|---------------|
| 1. Аристотель | 3. Страбон; |
| 2. Геродот; | 4. Эратосфен. |

2. В каком, из представленных ниже горных районов России наблюдается следующий порядок смены природных зон: степи – широколиственные леса – хвойные леса – субальпийские луга – альпийские луга – снега и льды.

- | | |
|----------|-----------|
| 1. Урал | 3. Саяны |
| 2. Алтай | 4. Кавказ |

3. Укажите действие какого фактора привело к образованию курумов («каменных рек»), встречающихся на Урале, в горах Южной и Восточной Сибири:

- | | |
|-----------------|--------------------------------|
| 1. Текучие воды | 3. Выветривание и сила тяжести |
| 2. Ветер | 4. Деятельность человека |

4. Выберите черты, правильно характеризующие субарктический климат:

1. Значительное количество осадков
2. В течение года отмечаются положительные температуры
3. Зимой преобладает умеренный воздух
4. Лето обычно пасмурное и дождливое

5. Циклон – это:

1. Область высокого давления с нисходящими токами воздуха
2. Область высокого давления с восходящими токами воздуха
3. Область низкого давления с нисходящими токами воздуха
4. Область низкого давления с восходящими токами воздуха

6. Выберите верный процесс (термин) к его определению.

..... – это процесс разрушения и изменения горных пород под влиянием механического и химического воздействия атмосферы, грунтовых и поверхностных вод и организмов.

1. Вымывание
2. Рельефообразование
3. Выветривание
4. Выдувание



ОТКРЫТАЯ МНОГОПРОФИЛЬНАЯ ОЛИМПИАДА КУБАНСКОГО
ГОСУДАРСТВЕННОГО УНИВЕРСИТЕТА ДЛЯ ШКОЛЬНИКОВ
ГЕОГРАФИЯ
2024/2025 учебный год
10-11 класс



7. Выберите крайнюю северную точку Австралии
1. Мыс Байрон
 2. Мыс Стип-Пойнт
 3. Мыс Юго-Восточный
 4. Мыс Йорк
8. В какой из республик Российской Федерации расположен географический центр Азии?
1. Республика Тыва (столица Кызыл)
 2. Республика Хакасия (столица Абакан)
 3. Республика Бурятия (столица Улан-Удэ)
 4. Республика Алтай (столица Горно-Алтайск)
9. Какая из рек находится НЕ в Южной Америке
1. Амазонка
 2. Уругвай
 3. Конго
 4. Ориноко
10. Какая форма рельефа имеет антропогенное происхождение?
1. Понор
 2. Бархан
 3. Террикон
 4. Дюна
11. На каком из озер не бывал выдающийся русский географ Н.М. Пржевальский?
1. Таймыр
 2. Иссык-Куль
 3. Кукунор
 4. Ханка
12. Установите соответствие между вулканами и территориями на которых они расположены.
- | | |
|---------------------|-----------|
| 1. Австралия | А. Ченнаи |
| 2. Евразия | Б. Перт |
| 3. Африка | В. Оттава |
| 4. Северная Америка | Г. Дакар |
| 5. Южная Америка | Д. Лима |
| 6. Антарктида | |

Ответ:

1.	2.	3.	4.	5.	6.

13. На рисунке фрагмент карты северо-восточной части материка Евразия. Определите, что за территория выделена красным маркером  ?
-



14. Определите соответствие между крупнейшими городскими агломерациями и материками на которых они расположены.

- | | |
|------------|------------------|
| 1. Дакка | А. Африка |
| 2. Киншаса | Б. Южная Америка |
| 3. Лима | В. Евразия |

Ответ:

1.	2.	3.

15. Хибины находятся в пределах

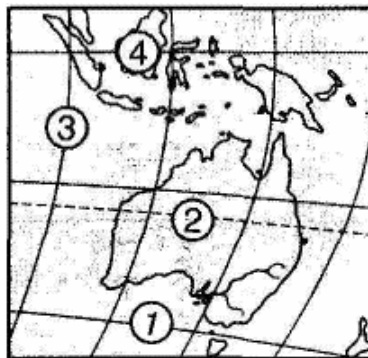
- 1) щита древней платформы
- 2) плиты молодой платформы
- 3) кайнозойской складчатости
- 4) мезозойской складчатости

16. Самым южным островом является


- | | |
|---------------|---------------|
| 1) Калимантан | 3) Мадагаскар |
| 2) Сахалин | 4) Гренландия |

17. Меньше всего осадков за год выпадает в районе, обозначенном цифрой

- 1) 1
- 2) 2
- 3) 3
- 4) 4



18. В Евразии в естественных условиях НЕ обитает



19. Установите соответствие

Страна	Форма правления и государственного устройства
Малайзия	А) унитарная республика
Бразилия	Б) унитарная монархия
Италия	В) федеративная республика
	Г) федеративная монархия

Ответ:

1)	2)	3)

20. Установите соответствие между производством и отраслями химической промышленности:

Производство:

Отрасль:

1. Пластмасс

А. Основная химия

2. Минеральных удобрений

Б. Химия полимеров (органический синтез)

3. Химических волокон

4. Сода

5. Синтетических смол

6. Серной кислоты

Ответ:

А.			Б.		



ОТКРЫТАЯ МНОГОПРОФИЛЬНАЯ ОЛИМПИАДА КУБАНСКОГО
ГОСУДАРСТВЕННОГО УНИВЕРСИТЕТА ДЛЯ ШКОЛЬНИКОВ
ГЕОГРАФИЯ
2024/2025 учебный год
10-11 класс



--

№	1	2	3	4	5	6	7	8	9	10
Правильный ответ										
Баллы										

№	11	12	13	14	15	16	17	18	19	20
Правильный ответ										
Баллы										

Тесты 30 баллов

Задания 60 баллов

Максимальное количество баллов 90